



نام  
نام خانوادگی  
محل امضاء

  
 جمهوری اسلامی ایران  
 وزارت علوم، تحقیقات و فناوری  
 سازمان سنجش آموزش کشور

اگر دانشگاه اصلاح شود مملکت اصلاح می شود.  
 امام خمینی (ره)

صبح پنج شنبه  
۹۲/۱۱/۱۷

**آزمون ورودی دوره های کارشناسی ارشد ناپیوسته داخل - سال ۱۳۹۳**

**مجموعه مهندسی فناوری اطلاعات (IT) - کد ۱۲۷۶**

تعداد سؤال: ۱۰۵      مدت پاسخگویی: ۱۸۰ دقیقه

عنوان مواد امتحانی، تعداد و شماره سؤالات

ردیف	مواد امتحانی	تعداد سؤال	از شماره	تا شماره
۱	زبان انگلیسی	۳۰	۱	۳۰
۲	دروس مشترک (ساختمان گسسته، ساختمان داده ها، طراحی الگوریتم، مهندسی نرم افزار، شبکه های کامپیوتری)	۳۰	۳۱	۶۰
۳	اصول و مبانی مدیریت	۱۵	۶۱	۷۵
۴	مجموعه دروس تخصصی مشترک (اصول طراحی پایگاه داده ها، هوش مصنوعی، سیستم های عامل)	۱۸	۷۶	۹۳
۵	معماری کامپیوتر	۱۲	۹۴	۱۰۵

بهمن ماه سال ۱۳۹۲

استفاده از ماشین حساب مجاز نمی باشد.  
این آزمون دارای نمره منفی است.

**Part A: Vocabulary**

**Directions:** Choose the word or the phrase (1), (2), (3), or (4) that best completes each sentence. Then mark your answer sheet.

- 1- Mrs. Harding herself was thin and frail but her son was a \_\_\_\_\_ sixteen-year-old.  
1) unbearable      2) verbose      3) sturdy      4) lethargic
- 2- Some tribes still \_\_\_\_\_ the more remote mountains and jungles of the country.  
1) forego      2) inhabit      3) ensue      4) aggravate
- 3- The \_\_\_\_\_ of coffee brought Christine into the small cafe.  
1) aroma      2) fragility      3) whim      4) badge
- 4- The client \_\_\_\_\_ our proposal because they found our presentation banal and unimpressive.  
1) recognized      2) emulated      3) hailed      4) rejected
- 5- Immediately overcome by \_\_\_\_\_ for the wrong he had done, I lowered him to the floor and tried to apologize.  
1) remorse      2) charity      3) stubbornness      4) esteem
- 6- A health inspector gave \_\_\_\_\_ instructions on how to correct the problem; we all found out how to handle the situation.  
1) perpetual      2) rudimentary      3) explicit      4) trivial
- 7- I \_\_\_\_\_ the cold I was getting by taking plenty of vitamin C pills and wearing a scarf.  
1) vanished      2) squandered      3) forestalled      4) penetrated
- 8- Why would Ian want to claim his inheritance and then give all his money away? It was a \_\_\_\_\_ to me.  
1) riddle      2) peril      3) glory      4) fragment
- 9- He was later accused of writing \_\_\_\_\_ loan and deposit records, found guilty and sentenced to three years of imprisonment.  
1) essential      2) fraudulent      3) vulgar      4) witty
- 10- The question of how the murderer had gained entry to the house \_\_\_\_\_ the police for several weeks.  
1) exhilarated      2) assailed      3) countered      4) perplexed

**Part B: Cloze Passage**

**Directions:** Read the following passage and decide which choice (1), (2), (3), or (4) best fits each space. Then mark your answer sheet.

Scuba diving is a form of underwater diving in which a diver uses a self-contained underwater breathing apparatus (scuba) to breathe underwater.

Unlike other modes of diving, (11) \_\_\_\_\_ rely either on breath-hold or on air pumped from the surface, scuba divers carry their own source of breathing gas, (usually compressed air), (12) \_\_\_\_\_ greater freedom of movement than with an air line or diver's umbilical and longer underwater endurance than breath-hold. Scuba equipment may be open circuit, in which exhaled gas (13) \_\_\_\_\_ the surroundings, or closed or semi-closed circuit, (14) \_\_\_\_\_ is scrubbed to remove carbon dioxide, and (15) \_\_\_\_\_ replenished from a supply of feed gas before being re-breathed.

- 11- 1) that      2) on which they      3) which      4) they
- 12- 1) allowing them      2) they allow      3) allowed them      4) to allow
- 13- 1) exhausts      2) is exhausted to      3) exhausting      4) be exhausted
- 14- 1) where the gas breathing      2) which breathes the gas  
3) the breathing gas which      4) in which the breathing gas
- 15- 1) the oxygen is used      2) the oxygen used is  
3) uses the oxygen to be      4) used is the oxygen

**PART C: Reading Comprehension**

**Directions:** Read the following three passages and answer the questions by choosing the best choice (1), (2), (3), or (4). Then mark the correct choice on your answer sheet.

**Passage 1:**

But is wiki information reliable? If anyone can add, delete, or change information, can the information be trusted? This depends on the wiki community. The community usually tries to make sure that the information on a topic is valid. If someone who is knowledgeable about a topic sees an entry with inaccurate information, that person can edit, or change, it.

Changes to wiki entries on a site can be accepted, revised, or rejected by the site's community. In that way, pages on wiki sites are expanding and changing all the time. In fact, on a big wiki like Wikipedia, thousands of pages change every day. At certain times of the day there can be 50 or more pages changing every minute! Sometimes the changes may be as simple as a corrected spelling or grammatical error. Other times they are changes or additions to the content.

A wiki is a collaborative project. It can be created for any topic that has an active community of people who are interested in it. Do you want to find an interesting quote to use in a writing project or report? Go to Wikiquotes. Do you want to learn the most recent information about a place you're planning to visit? Try Wikitravel. A wiki gives the community a way to gather information together and modify it as things change. Wikis are dramatically changing the way we get information. And unlike information in a printed book, the information is being updated all the time.

- 16- **What is the author's main purpose in the passage?**  
 1) To inform                      2) To criticize                      3) To distinguish                      4) To persuade
- 17- **The paragraph preceding the passage most probably discusses .....**  
 1) wiki communities                      2) how a wiki is created  
 3) why wikis are becoming popular                      4) information sites on the Internet
- 18- **The word modify in line 15 is closest in meaning to .....**  
 1) create                      2) change                      3) correct                      4) increase
- 19- **Which of the following statements is NOT correct according to the passage?**  
 1) Wikis vary in terms of content.  
 2) Anyone can add or change information.  
 3) All the information on wikis is reliable.  
 4) Information is updated on wikis all the time.
- 20- **Which of the following statements best expresses the writer's point of view?**  
 1) Everyone should be part of a wiki community.  
 2) People shouldn't use wikis because the information is not always correct.  
 3) Wikis are not perfect, but they can be an excellent source of information.  
 4) It is easier to change the information in wikis than in books so in the future books will not be necessary.





۳۱- با فرض آن که هر فرد یا راست‌گو یا همیشه دروغ‌گو است، بر اساس گزاره‌های زیر کدام گزینه درست است؟

- مهران می‌گوید: «فقط من و سعید راست می‌گوییم.»
- فرهاد می‌گوید: «سعید یک دروغ‌گو است.»
- سعید می‌گوید: «فرهاد راست می‌گوید یا مهران دروغ می‌گوید.»

- (۱) مهران: راست‌گو، سعید: راست‌گو، فرهاد: دروغ‌گو
- (۲) مهران: راست‌گو، سعید: دروغ‌گو، فرهاد: راست‌گو
- (۳) مهران: دروغ‌گو، سعید: دروغ‌گو، فرهاد: دروغ‌گو
- (۴) مهران: دروغ‌گو، سعید: راست‌گو، فرهاد: دروغ‌گو

۳۲- درستی گزاره‌های زیر را مشخص کنید:

الف) هر گراف ساده بدون جهت که هر راس آن درجه حداقل  $2 \geq \delta$  دارد شامل دوری به طول حداقل  $\delta$  است.  
 ب) با فرض آن که طول بزرگ‌ترین مسیر در یک درخت  $\ell$  است، هر دو مسیر به طول  $\ell$  در درخت فوق حتما دست‌کم یک راس مشترک خواهند داشت.

- |                             |                           |
|-----------------------------|---------------------------|
| (۱) الف: نادرست و ب: نادرست | (۲) الف: درست و ب: درست   |
| (۳) الف: نادرست و ب: درست   | (۴) الف: درست و ب: نادرست |

۳۳- فرض کنید  $R$  دارای خاصیت بازتابی است. کدام ترتیب از اعمال زیر یک رابطه‌ی هم‌ارزی تولید می‌کند؟

- الف) ابتدا بستار تعدی و بعد بستار متقارن
- ب) ابتدا بستار متقارن و بعد بستار متعدی

- |           |             |           |              |
|-----------|-------------|-----------|--------------|
| (۱) هر دو | (۲) فقط الف | (۳) فقط ب | (۴) هیچ‌کدام |
|-----------|-------------|-----------|--------------|

۳۴- تعداد زیرمجموعه‌های  $A_1, A_2, A_3, A_4$  از یک مجموعه‌ی ۴ عضوی که برای هر  $i$  ( $1 \leq i \leq 3$ ) داشته باشیم  $A_i \subseteq A_{i+1}$  کدام یک از گزینه‌های زیر است؟

- |         |          |         |          |
|---------|----------|---------|----------|
| (۱) ۶۲۵ | (۲) ۳۱۲۵ | (۳) ۱۲۰ | (۴) ۱۰۲۴ |
|---------|----------|---------|----------|

۳۵- درستی گزاره‌های زیر را مشخص کنید:

الف) با فرض اول بودن  $p$ ، عبارت  $p^2 + 2^p$  اول می‌شود اگر و فقط اگر  $p = 3$  باشد.  
 ب) به ازای هر عدد طبیعی فرد  $n$  داریم:  $73 \mid (8^{n+1} + 9^{2n+1})$

- |                             |                           |
|-----------------------------|---------------------------|
| (۱) الف: نادرست و ب: نادرست | (۲) الف: درست و ب: نادرست |
| (۳) الف: درست و ب: درست     | (۴) الف: نادرست و ب: درست |

۳۶- تعداد رشته‌های ۵ حرفی از  $a, b$  و  $c$  که  $ab$  زیررشته‌ی آن‌ها نیست، کدام گزینه است؟

- |         |         |         |         |
|---------|---------|---------|---------|
| (۱) ۱۲۸ | (۲) ۱۶۲ | (۳) ۱۶۵ | (۴) ۱۴۴ |
|---------|---------|---------|---------|

۳۷- در مسئله‌ی ژوزفوس  $n$  نفر با شماره‌های ۱ تا  $n$  به‌صورت ساعت‌گرد دور یک میز دوار نشسته‌اند و با الگوریتم زیر یک‌دیگر را می‌کشند. اسلحه ابتدا در دست فرد شماره‌ی ۱ است. الگوریتم از شماره‌ی ۱ شروع می‌کند و در جهت ساعت‌گرد در هر مرحله از یک نفر زنده عبور کرده و فرد زنده‌ی بعدی خود را می‌کشد. این الگوریتم تا زمانی که یک نفر باقی بماند ادامه پیدا می‌کند. شماره‌ی فرد زنده‌ی آخر را  $f(n)$  می‌نامیم. مثلاً اگر  $n = 9$ ، به‌ترتیب شماره‌های ۲، ۴، ۶، ۸، ۱، ۵، ۹ و ۷ کشته شده و ۳ زنده می‌ماند. یعنی  $f(9) = 3$ . کدام یک از رابطه‌های بازگشتی زیر درست است؟

$$\begin{aligned} f(1392) &= 2f(696) + 1 \quad (2) & f(1392) &= 2f(696) - 1 \quad (1) \\ f(1393) &= f(1392) - 2 \quad (4) & f(1393) &= 2f(696) - 1 \quad (3) \end{aligned}$$

۳۸- یک درخت دودویی جست‌وجوی متوازن شامل  $n$  عدد متمایز داده شده است. فرض کنید که به دلیل وجود نوپز عدد داخل یکی از گره‌ها تغییر می‌کند. با چه مرتبه‌ی زمانی می‌توان تشخیص داد که آیا درخت جدید هم‌چنان یک درخت دودویی جست‌وجوی معتبر هست یا خیر؟ بهترین گزینه را انتخاب کنید.

$$\mathcal{O}(n^2) \quad (4) \quad \mathcal{O}(n \log n) \quad (3) \quad \mathcal{O}(n) \quad (2) \quad \mathcal{O}(\log n) \quad (1)$$

۳۹- درستی گزاره‌های زیر را تعیین کنید.

الف) در هر الگوریتم مرتب‌سازی مبتنی بر مقایسه، دو عددی که اختلاف مرتبه‌ی آن‌ها یک است، حتماً با یک‌دیگر مقایسه می‌شوند.  
ب) در هر الگوریتم مرتب‌سازی مبتنی بر مقایسه، کوچک‌ترین و بزرگ‌ترین عدد حتماً با یک‌دیگر مقایسه می‌شوند.

$$\begin{aligned} (1) \text{ الف: نادرست و ب: نادرست} & \quad (2) \text{ الف: درست و ب: درست} \\ (3) \text{ الف: نادرست و ب: درست} & \quad (4) \text{ الف: درست و ب: نادرست} \end{aligned}$$

۴۰- یک هرم بیشینه (max-heap) به اندازه‌ی  $m$  و یک هرم کمینه (min-heap) به اندازه‌ی  $n$  موجودند. بهترین الگوریتم برای ادغام این دو و ایجاد یک هرم بیشینه از کدام مرتبه است؟

$$\mathcal{O}(n + m) \quad (1) \quad \mathcal{O}(n \log m + m \log n) \quad (2) \\ \mathcal{O}(n \log n + m \log m) \quad (3) \quad \mathcal{O}(\min\{n \log m, m \log n\}) \quad (4)$$

۴۱- چند تا از گزینه‌های زیر در مورد یک عبارت ریاضی  $E$  با عملگرهای دودویی و یکانی (unary) درست‌اند؟

الف) تنها با داشتن نگارش پیشوندی  $E$  (prefix) می‌توان در  $\mathcal{O}(n)$  درخت عبارت آن را به‌دست آورد.  
ب) از نگارش پیشوندی  $E$  می‌توان مستقیماً و در  $\mathcal{O}(n)$  نگارش پسوندی (postfix) آن را به‌دست آورد.  
ج) از نگارش میانوندی با پرانتز کامل  $E$  (infix) می‌توان در  $\mathcal{O}(n)$  درخت عبارت آن را به‌دست آورد.

$$0 \quad (1) \quad 1 \quad (2) \quad 2 \quad (3) \quad 3 \quad (4)$$

۴۲- چند تا از گزینه‌های زیر درست‌اند؟

الف) داده‌ساختاری برای  $n$  عنصر وجود دارد که بتوان اعمال Push، Pop، یافتن مقدار عنصر کمینه‌ی موجود را هر کدام در  $\mathcal{O}(1)$  انجام دهد.  
ب) داده‌ساختاری برای  $n$  عنصر وجود دارد که بتوان اعمال Push، Pop، یافتن مقدار عنصر کمینه و یافتن مقدار عنصر بیشینه‌ی موجود را هر کدام در  $\mathcal{O}(1)$  انجام دهد.  
ج) داده‌ساختاری برای  $n$  عنصر وجود دارد که بتوان اعمال Push، Pop، و حذف عنصر کمینه‌ی موجود را هر کدام در  $\mathcal{O}(1)$  انجام دهد.

$$0 \quad (1) \quad 1 \quad (2) \quad 2 \quad (3) \quad 3 \quad (4)$$





- ۴۹- کدامیک از روش‌های زیر برای پروژه‌های که از تکنولوژی mobile برای اطلاع‌رسانی در مورد خاصی استفاده می‌کند مناسب است، در صورتی که ما با این تکنولوژی آشنائی نداشته باشیم؟  
 (۱) RAD Model (۲) Sequential Model  
 (۳) Rapid Prototyping (۴) Incremental Model
- ۵۰- کدامیک از روش‌های زیر قادر هستند به راحتی ابهامات، ناسازگاری‌ها و نواقص یک سیستم را حین تولید مشخص نمایند؟  
 (۱) Formal Method (۲) Object Oriented Analysis, RUP  
 (۳) Component based development (۴) Concurrent Development Model
- ۵۱- کدام جمله در مورد تست درست است؟  
 (۱) در تست بالا به پایین بایستی زیربرنامه‌هایی را به عنوان Driver ساخت.  
 (۲) در تست واحدها، سربار ساختن Driverها و یا stubها وجود دارد.  
 (۳) در تست پایین به بالا، سربار ساختن زیربرنامه‌های مجازی به نام stub وجود دارد.  
 (۴) هر سه مورد فوق.
- ۵۲- دو پیمانه از طریق تبادل یک رکورد با یکدیگر در ارتباطند. این نوع اتصال (coupling) از نوع ..... است.  
 (۱) Data Coupling (اتصال داده‌ای) (۲) Stamp Coupling (اتصال تمبری)  
 (۳) Control Coupling (اتصال کنترلی) (۴) Common Coupling (اتصال اشتراکی)
- ۵۳- کدامیک از گزینه‌های زیر از اصول رسیدن به چابکی نیست؟  
 (۱) شرط چابکی ادغام طراحی و ساخت است.  
 (۲) تولیدکنندگان و مشتریان باید روزانه و پیوسته با یکدیگر همکاری کنند.  
 (۳) بهترین طراحی‌ها، معماری‌ها و نیازها از تیم‌های خود سازمانده منتج می‌شود.  
 (۴) رضایت مشتری از طریق تحویل نسخ محصول بطور پیوسته و سریع بالاترین اولویت را دارد.
- ۵۴- کدامیک از گروه Diagramهای زیر برای OOA صحیح نیست؟  
 (۱) Class Diagram, Business Use Case  
 (۲) Sequence Diagram, Use Case Diagram, CRC  
 (۳) Flow-Oriented Diagram, Deployment Diagram  
 (۴) Activity Diagram, Swimlane Diagram, Object Diagram
- ۵۵- فرض کنید ۱۰ کلاینت با استفاده از پروتکل FTP به طور همزمان در حال دریافت فایل‌های با حجم زیاد از یک فایل سرور هستند و لینک گلوگاه، لینک متصل به سرور است، اگر یکی از کلاینت‌ها از یک برنامه مدیریت دانلود (Download Manger) استفاده کند که بطور همزمان ۹ اتصال همزمان TCP باز می‌کند سرعت دانلود این کلاینت نسبت به قبل چند برابر خواهد شد؟  
 (۱) ۲ (۲) ۴  
 (۳) ۵ (۴) ۱۰
- ۵۶- دلیل اصلی اینکه در پروتکل IPv6 اجازه fragmentation به گره‌های میانی داده نشده است، چیست؟  
 (۱) کاهش سربار سرآیند (header) بسته‌های IP به منظور بالا بردن کارایی پروتکل IP  
 (۲) اختیاری نمودن fragmentation بدلیل انعطاف‌پذیری IPv6 در بکارگیری optionها  
 (۳) عدم نیاز به fragmentation در پروتکل IPv6 بدلیل امکان ارسال بسته‌های بزرگ‌تر از ۶۴ کیلو بایت  
 (۴) ساده‌تر کردن وظیفه جلورانی (forwarding) بسته‌ها به منظور افزایش سرعت سوئیچینگ بسته‌ها

۵۷- در یک شبکه دیتاگرام به مسیر یاب‌ها اجازه داده می‌شود تا در صورت لزوم بسته‌ها را حذف نمایند. اگر احتمال حذف بسته در هر مسیر یاب ۵۰ درصد باشد، در حالتی که بین گره مبدأ و گره مقصد دو مسیر یاب میانی وجود داشته باشد (بین مبدأ و مقصد سه گام به مقصد وجود دارد) و هر بسته در صورت حذف شدن مجدداً ارسال می‌شود. مطلوب است میانگین تعداد گامی که یک بسته دریافتی طی کرده است؟ (دقت شود که یک بسته ممکن است چند بار ارسال شود تا گیرنده موفق به دریافت آن شود)

- (۱) ۸  
(۲) ۷  
(۳) ۴  
(۴) ۳

۵۸- ۸ ایستگاه از طریق دو باس سیمی مختلف به هم متصل شده‌اند. فرض کنید که زمان ارسال هر فریم یک ثانیه طول می‌کشد و زمان نیز به اسلات‌های زمانی یک ثانیه‌ای تقسیم شده است. زمانی که یک ایستگاه فریمی برای ارسال دارد به طور تصادفی و با احتمال مساوی یکی از باس‌ها را انتخاب کرده و در زمان شروع اسلات بعدی با احتمال  $p$  ارسال می‌کند. مقدار  $p$  برای حداکثر شدن نرخ ارسال موفقیت‌آمیز چقدر است؟

- (۱)  $\frac{1}{16}$   
(۲)  $\frac{1}{8}$   
(۳)  $\frac{1}{4}$   
(۴)  $\frac{1}{2}$

۵۹- یک شبکه محلی بی‌سیم برای تبادل داده بین  $M$  ایستگاه از یک کانال با نرخ ارسال  $25 \text{ Mbps}$  با مکانیزم سرکشی (polling) متمرکز با یک ایستگاه پایه (مرکزی) استفاده می‌کند. فرض کنید هر ایستگاه  $1000$  متر از ایستگاه پایه فاصله دارد، سرعت انتشار امواج  $2 \times 10^8 \frac{\text{m}}{\text{s}}$ ، اندازه فریم سرکشی  $500$  بیت و اندازه فریم داده  $1250$  بایت است و هر ایستگاه اتمام ارسال داده خود را با یک فریم  $500$  بیتی به ایستگاه پایه اعلام می‌کند. اگر هر ایستگاه فقط مجاز باشد یک فریم داده به ازای هر سرکشی ارسال کند حداکثر بهره‌وری این کانال چند درصد است؟

- (۱) ۸۹  
(۲) ۹۱  
(۳) ۹۳  
(۴) ۹۵

۶۰- کدام یک از گزینه‌های زیر در مورد مکانیزم‌های کنترل دسترسی به رسانه (MAC) نادرست است؟

- (۱) سر بار پروتکلی مکانیزم‌های مبتنی بر زمانبندی کمتر از مکانیزم‌های رقابتی است.
- (۲) پیچیدگی پیاده‌سازی مکانیزم‌های رقابتی کمتر از مکانیزم‌های مبتنی بر زمانبندی است.
- (۳) در بار ترافیکی کم، مکانیزم‌های رقابتی تأخیر کمتری نسبت به مکانیزم‌های مبتنی بر زمانبندی دارند.
- (۴) در بار ترافیکی زیاد، مکانیزم‌های مبتنی بر زمانبندی نرخ گذردهی بیشتری نسبت به مکانیزم‌های رقابتی دارند.

#### اصول و مبانی مدیریت

۶۱- روش مدیریت بر مبنای هدف (MBO) برای ..... کاربرد دارد.

- (۱) کنترل بهتر کارکنان
- (۲) هدف‌گذاری بهتر سازمان
- (۳) هماهنگی بین برنامه و کنترل
- (۴) هماهنگی بین برنامه و اهداف

۶۲- کدام گزینه به بهترین شکل محاسبه بهره‌وری را توضیح می‌دهد؟

- |   |   |
|---|---|
| <p>(۲) <math>\text{بهره‌وری} = \frac{\text{درون دادها}}{\text{کارگران} + \text{سرمایه} + \text{مواد}}</math></p> <p>(۴) <math>\text{بهره‌وری} = \frac{\text{کارگران} + \text{سرمایه} + \text{مواد}}{\text{درون دادها}}</math></p> | <p>(۱) <math>\text{بهره‌وری} = \frac{\text{برون دادها}}{\text{کارگران} + \text{سرمایه} + \text{مواد}}</math></p> <p>(۳) <math>\text{بهره‌وری} = \frac{\text{کارگران} + \text{سرمایه} + \text{مواد}}{\text{برون دادها}}</math></p> |
|---|---|

۶۳- در حالی که تحمل ابهام بالا و نحوه اندیشیدن هم به صورت عقلایی است کدام یک از شیوه‌های تصمیم‌گیری کاربرد دارد؟

- (۱) ادراکی
- (۲) تحلیلی
- (۳) رفتاری
- (۴) دستوری

- ۶۴- متن زیر به کدام یک از شیوه‌های تصمیم‌گیری گروهی اشاره دارد؟  
«اعضای گروه باید به مانند جلسه کمیته سنتی در جلسه حاضر باشند ولی از آنها خواسته می‌شود، مستقل عمل کنند. آنها به طور محرمانه لیستی از زمینه‌های مشکلات عمومی یا راه‌حل‌های بالقوه برای مشکلات را تهیه می‌کنند.»  
(۱) اسمی (۲) توفان مغزی (۳) جلسات الکترونیکی (۴) هیچکدام
- ۶۵- در حالتی که تطبیق هنجار گروه و اهداف سازمانی ..... و انسجام ..... باشد، بهره‌وری افزایش می‌یابد.  
(۱) کم - کم (۲) کم - زیاد (۳) زیاد - کم (۴) زیاد - زیاد
- ۶۶- کدام جمله نادرست است؟  
(۱) فرهنگ ملی کارکنان بر شیوه رهبری تأثیر می‌گذارد.  
(۲) زنان به شیوه رهبری مردم سالارانه یا مشارکتی تمایل دارند.  
(۳) مردان به شیوه رهبری جهت‌دهنده و مستبدانه تمایل دارند.  
(۴) شیوه رهبری خودکامه مناسب فرهنگ‌هایی است که در آنها اختلاف قدرت کم است.
- ۶۷- در مورد کنترل کدام گزینه درست است؟  
(۱) کنترل اداری بر اقتدار سازمانی تأکید دارد.  
(۲) کنترل اقتصادی آن دیدگاهی است که بر کاربرد مکانیسم‌های خارجی بازار تأکید می‌کند.  
(۳) در کنترل فرهنگی رفتارهای کارمند بر مبنای ارزش‌ها، هنجارها، سنت‌ها و شعائر تنظیم می‌شود.  
(۴) هر سه گزینه صحیح است.
- ۶۸- کدام جمله در مورد تأثیر جهانی شدن بر اقدامات مدیریتی درست است؟  
(۱) دنیای بی‌مرز چالش‌های جدیدی را پیش روی مدیران می‌گذارد.  
(۲) یکی از چالش‌های خاص، مدیریت در فرهنگ‌های ملی مختلف است.  
(۳) دیدگاه‌های جدید برای مطالعه تجارت بین‌الملل، به دنبال یافتن اصول عمومی و رفتارهای فرهنگی خاص هستند.  
(۴) از نظر محیط تغییرپذیر جهانی، گسترش سرمایه‌داری، جهان را به یک مکان کوچکتر تبدیل می‌کند.
- ۶۹- فعالیت‌های ذیل به کدام یک از نقش‌های مدیریتی مینزبرگ اشاره دارد. «زمان‌بندی، درخواست اعطای امتیاز، اجرای هرگونه فعالیتی که شامل بودجه‌بندی و برنامه‌ریزی کارکنان باشد»  
(۱) کارآفرین (۲) تخصیص‌دهنده منابع (۳) مذاکره‌کننده (۴) حل‌کننده مسأله
- ۷۰- کدام یک از تعاریف زیر واژه کارآیی را به درستی توضیح می‌دهد؟  
(۱) در انجام فعالیت‌ها، هزینه‌های منابع را به حداقل رساندن است.  
(۲) مقدار منابعی است که برای تولید یک واحد محصول صرف می‌شود.  
(۳) درجه نیل به اهداف فردی و سازمانی با صرف حداقل هزینه است.  
(۴) هیچکدام
- ۷۱- کدام یک از تعاریف زیر واژه اثربخشی را به درستی توضیح می‌دهد؟  
(۱) انجام کارها با دقت است.  
(۲) کار را درست انجام دادن است.  
(۳) کارها را به درستی انجام دادن است.  
(۴) مربوط به انجام موفقیت‌آمیز فعالیت‌ها در دست‌یابی به هدف است.
- ۷۲- در مورد مدیریت کدام یک نادرست است؟  
(۱) محتوای وظایف مدیریت در همه سطوح مدیریت یکسان است و تغییر نمی‌کند.  
(۲) مدیران در سطوح بالاتر بیشتر به وظیفه برنامه‌ریزی و کمتر به وظیفه رهبری می‌پردازند.  
(۳) مدیریت یک فعالیت عام است یعنی مدیر صرف‌نظر از اینکه کجا مدیریت می‌کند یک مدیر است.  
(۴) آنچه مدیران انجام می‌دهند اساساً باید مشابه باشد صرف نظر از اینکه او یک مدیر ارشد باشد یا یک مدیر عملیاتی.

- ۷۳- کدام گزینه در باب اهمیت برنامه‌ریزی رسمی نادرست است؟  
 (۱) تعیین مسیر (۲) افزایش تأثیر تغییرات  
 (۳) به حداقل رساندن ضایعات و اضافات (۴) ایجاد استانداردهایی برای تسهیل کنترل
- ۷۴- کدام اصل بیان می‌دارد که برای دستیابی به هدف همواره تلاش ذهنی باید پیش از تلاش فیزیکی صورت پذیرد؟  
 (۱) تعهدات (۲) برنامه‌ریزی (۳) وحدت مدیریت (۴) وحدت فرماندهی
- ۷۵- چگونه می‌توان مدیران را نسبت به تفاوت‌ها و تنوع نیروی کار سازمان خود حساس‌تر کرد؟  
 (۱) آن‌ها باید فلسفه خود را از موضع یکسان نگریستن به همه به سمت توجه به تفاوت‌های فردی تغییر دهند.  
 (۲) آن‌ها باید به تفاوت ارزش‌ها، احتیاجات و علایق و استعدادهایی که در کارکنان وجود دارد بها دهند.  
 (۳) باید برنامه‌های آموزشی متنوع و سطح بالایی را برای مدیران در جهت کمک به آن‌ها برای ایجاد ارتباطات، انگیزه و رهبری برگزار شود.  
 (۴) هر سه گزینه صحیح است.

مجموعه دروس تخصصی مشترک (اصول طراحی پایگاه داده‌ها، هوش مصنوعی، سیستم‌های عامل)

- ۷۶- اگر رابطه  $r$  روی مجموعه صفت‌های  $X$  و رابطه  $s$  روی مجموعه صفت‌های  $Y$  تعریف شده باشند، و اگر نیم‌الحاق (semi-join)  $r$  با  $s$  را به صورت زیر تعریف کنیم:  
 کدام گزینه زیر صحیح است؟

$$r \bowtie s := \Pi_X (r \bowtie s)$$

$$r \bowtie s := r \bowtie \Pi_{X \cap Y} (s)$$

$$r \bowtie s := (r \bowtie s) \bowtie s$$

$$r \bowtie s := ((r \bowtie s) \bowtie (s \bowtie r))$$

- (۱) تنها گزاره II صحیح است.  
 (۲) گزاره‌های I و II صحیح هستند.  
 (۳) گزاره‌های I و III صحیح هستند.  
 (۴) هر سه گزاره صحیح هستند.

- ۷۷- کدام یک از روابط زیر در جبر رابطه ای صحیح نیست. ( $r$  و  $s$  رابطه هستند)

$$r \times s = s \times r \quad (۱)$$

$$r \bowtie_{condition} s = s \bowtie_{condition} r \quad (۲)$$

$$\Pi_{list1} (\Pi_{list2} r) = \Pi_{list2} (\Pi_{list1} r) \quad (۳)$$

$$\sigma_{condition1} (\sigma_{condition2} r) = \sigma_{condition2} (\sigma_{condition1} r) \quad (۴)$$

- ۷۸- با داشتن رابطه  $r(A, B, C, D, E)$  و مجموعه وابستگی‌های  $F$  به صورت زیر، کدام عبارت صحیح است؟

$$F = \{ AB \rightarrow C, C \rightarrow A, C \rightarrow BD, D \rightarrow E \}$$

- (۱)  $A$  و  $AC$  کلید هستند. (۲)  $AB$  و  $AC$  کلید هستند.  
 (۳)  $AD$  و  $AC$  کلید هستند. (۴)  $AD$  و  $CD$  کلید هستند.

- ۷۹- با داشتن رابطه  $person(PersonID, Name, MotherID, FatherID)$  که اطلاعات افراد در آن ذخیره می‌شود و صفت‌های  $FatherID$  و  $MotherID$  به رکوردهای همین رابطه اشاره می‌کنند، پرس و جوی SQL زیر چه جوابی را برمی‌گرداند؟  
**SELECT C.Name AS Name, F.Name AS Father, M.Name AS Mother**  
**FROM person AS C LEFT OUTER JOIN person AS F ON C.FatherID=F.PersonID**  
**INNER JOIN person AS M ON C.MotherID=M.PersonID**

- (۱) همه پدرهایی که برای آنها فرزند ثبت نشده است. (۲) همه مادرهایی که برای آنها فرزند ثبت نشده است.  
 (۳) همه افراد، حتی آنهایی که مادر برای آنها ثبت نشده است. (۴) همه افراد، حتی آنهایی که پدر برای آنها ثبت نشده است.

۸۰- هر تاپل در رابطه  $supplier(sid, pid, sdate)$  نشان می‌دهد که تهیه کننده  $sid$ ، قطعه  $pid$  را در تاریخ  $sdate$  تهیه کرده است. کلید اصلی این رابطه ترکیب هر سه صفت تشکیل دهنده آن است. کدام پرس و جوی SQL زیر معادل این درخواست است؟

"sid تهیه کنندگانی که بعضی قطعات را بیش از ده بار تهیه کرده اند"

(۲)	(۱)
SELECT distinct sid From supplier Where count(*) >10	Select distinct sid From supplier Group by sid, pid Having count(*) > 10
(۴)	(۳)
Select distinct sid From supplier Where count(distinct sdate)>10 Group by sid, pid	Select distinct s1.sid From supplier as s1, supplier as s2 Where count(*)>10 and s1.pid=s2.pid

۸۱- با داشتن رابطه های  $products$  و  $orderDetails$  که مربوط به کالاها و اقلام سفارش داده شده مشتریان است و همچنین دو رابطه ۳ و ۸: کدام گزینه می‌تواند شناسه سفارش (ID) مشتریانی را بدهد که هیچ کالایی در گروه  $food$  نباشد که نخریده باشند؟

$products(Prod\_ID, Group, UnitPrice)$   
 $orderDetails(ID, Prod\_ID, Quantity)$   
 $r(ID, Prod\_ID) = \Pi_{ID, Prod\_ID}(orderDetails)$   
 $s(Prod\_ID) = \Pi_{Prod\_ID}(\sigma_{Group='food'} products)$

$$r \bowtie s \quad (۲)$$

$$r \bowtie \square s \quad (۴)$$

$$r \div s \quad (۱)$$

$$r \supset \bowtie s \quad (۳)$$

۸۲- کدام گزینه مشخص کننده کلوزهایی است که از جمله منطق مرتبه اول زیر بدست می‌آیند؟

$$\forall x \exists y A(x) \wedge A(y) \Rightarrow \exists z B(x, z) \wedge A(z)$$

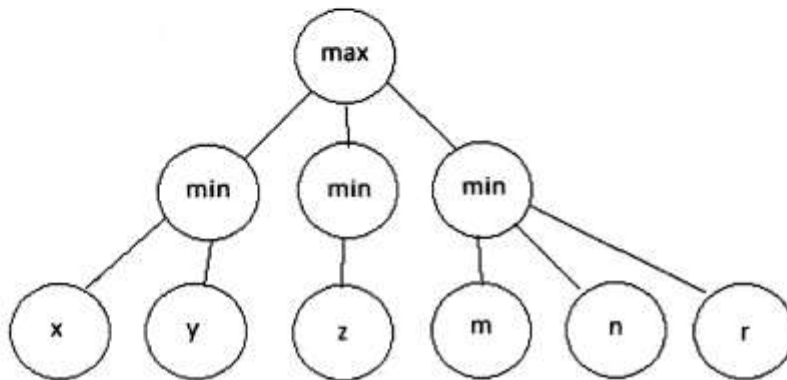
$$C_1 = \neg A(x) \vee \neg A(y) \vee A(z) \quad C_2 = \neg A(x) \vee \neg A(y) \vee B(x, z) \quad (۱)$$

$$C_1 = \neg A(x) \vee \neg A(y) \vee A(f(x)) \quad C_2 = \neg A(x) \vee \neg A(y) \vee B(x, f(x)) \quad (۲)$$

$$C_1 = \neg A(x) \vee \neg A(f(x)) \vee A(g(x)) \quad C_2 = \neg A(x) \vee \neg A(f(x)) \vee B(x, g(x)) \quad (۳)$$

$$C_1 = \neg A(f(y)) \vee \neg A(y) \vee A(g(y)) \quad C_2 = \neg A(x) \vee \neg A(y) \vee B(f(y), g(y)) \quad (۴)$$

۸۳- درخت شکل زیر را در نظر بگیرید. با هر مجموعه ۶ عضوی از اعداد حقیقی حداکثر هرس ممکن با جایگذاری اعداد آن مجموعه با متغیرهای  $x, y, z, m, n, r$  چند مورد می‌تواند باشد؟



- (۱) ۲  
(۲) ۳  
(۳) ۵  
(۴) بستگی به مقادیر اعداد ندارد.

۸۴- فرض کنید در حل مسئله ارضا محدودیت به کمک روش پرش به عقب برای متغیر  $k$  هیچ مقدار مناسبی باقی نمانده باشد و الگوریتم به متغیر  $k$  عقب‌گرد کند و مقدار جدیدی برای متغیر  $k$  تعیین شود. مقادیر انتخاب شده برای متغیرهای بعد از  $k$  تا  $k$  چه خواهد شد؟

- (۱) فقط مقدار متغیرهای وابسته به  $k$  مجدداً تعیین می‌شوند.  
(۲) فقط مقدار متغیرهای وابسته به  $k$  مجدداً تعیین می‌شوند.  
(۳) مقادیر همه متغیرهای بین  $k$  و  $k$  حفظ می‌شوند.  
(۴) مقادیر همه متغیرهای بین  $k$  و  $k$  مجدداً تعیین می‌شوند.

۸۵- اگر  $KB_1$  یک پایگاه دانش دلخواه و  $b$  یک جمله دلخواه باشد. با فرض اینکه با افزودن  $b$  به  $KB_1$  پایگاه دانش  $KB_2$  ایجاد می‌شود، اگر بدانیم جمله  $a$  از  $KB_1$  قابل نتیجه‌گیری باشد، کدام یک از گزینه‌های زیر صحیح است؟

(۱)  $a \wedge b$  از  $KB_1$  قابل نتیجه‌گیری است.  
(۲)  $a$  از  $KB_2$  قابل نتیجه‌گیری است.  
(۳)  $a \wedge b$  از  $KB_2$  قابل نتیجه‌گیری است.  
(۴)  $a \vee b$  هم از  $KB_1$  و هم از  $KB_2$  قابل نتیجه‌گیری است.

۸۶- کدام یک از موارد زیر در مورد الگوریتم تپه نوردی و **simulated annealing** غلط است؟

- (۱) الگوریتم تپه نوردی نزدیک‌ترین ماکزیمم را پیدا می‌کند.  
(۲) وقتی حرارت خیلی کم شود الگوریتم **simulated annealing** تبدیل به الگوریتم تپه نوردی می‌شود.  
(۳) اگر حرارت خیلی زیاد باشد و در طول الگوریتم کم نشود الگوریتم **simulated annealing** تبدیل به الگوریتم تصادفی می‌شود.  
(۴) الگوریتم **simulated annealing** مستقل از اینکه حرارت چه مقداری داشته باشد می‌تواند از مینیمم محلی فرار کند.

۸۷- اگر هدف رساندن یک مسافر از مبدأ به مقصد توسط یک عامل هوشمند باشد و معیار کارایی امنیت، زمان و مسیر خلوت باشد. چه نوع عاملی مناسب است؟

- (۱) هدف‌گرا  
(۲) مدل‌گرا  
(۳) سودمند  
(۴) واکنشی ساده

۸۸- کدام گزینه در مورد جدول صفحه وارونه درست نیست؟

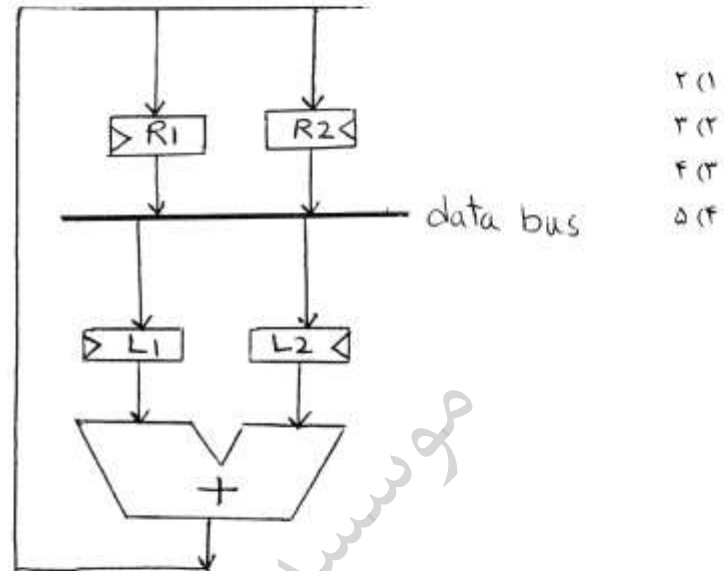
- (۱) به ازاء هر صفحه فیزیکی حافظه در جدول صفحه وارونه تنها یک خانه دارد.  
(۲) در جدول صفحه وارونه هر پرده یک جدول صفحه دیگر برای خود نگهداری می‌نماید.  
(۳) در جدول صفحه وارونه تنها، کل اطلاعات فضای آدرس منطقی برای یک پرده در دسترس است.  
(۴) هر خانه از جدول صفحه وارونه دست کم دارای آدرس منطقی صفحه و شماره پرده استفاده کننده از این صفحه است.

- ۸۹- کدام یک از روش‌های زیر برای پیاده‌سازی سمافور در سیستم با چند پردازنده مناسب است؟
- (۱) غیرفعال نمودن وقفه‌ها
  - (۲) استفاده از ویژگی‌های زبان سطح بالا
  - (۳) استفاده از متغیر flag و روش Busy Waiting
  - (۴) استفاده از دستور Busy Waiting با Test and Set Lock
- ۹۰- دو فرآیند همروند P و Q را در نظر بگیرید کمترین اندازه ممکن برای حافظه اصلی (بدون در نظر گرفتن حافظه مورد نیاز هسته سیستم عامل) برای آنکه بن‌بست رخ ندهد، چند کیلوبایت است؟

P:	Q:	(۱) $x_1 + x_2$
Request $x_1 k_B$	Request $y_1 k_B$	(۲) $x_1 + x_2 + y_1 + y_2$
Request $x_2 k_B$	Request $y_2 k_B$	(۳) $x_1 + y_1 + \min(x_2, y_2)$
Request $x_1 k_B$	Request $y_1 k_B$	(۴) $x_1 + y_1 + \max(x_2, y_2)$

- ۹۱- اگر هر فرآیند در سیستم عامل بتواند در یکی از حالت‌های ایجاد، مسدود، اجرا، پایان یافته و آماده اجرا باشد، کدام یک از تغییر حالت‌های مستقیم زیر مجاز نیست؟
- (۱) آماده اجرا به اجرا
  - (۲) آماده اجرا به مسدود
  - (۳) اجرا به آماده اجرا
  - (۴) مسدود به آماده اجرا
- ۹۲- اگر یک پردازنده با دستور fork( ) پردازنده جدیدی را ایجاد نماید، کدام یک از داده‌های زیر بین پدر و فرزند به اشتراک گذاشته نمی‌شود؟
- (۱) Process id
  - (۲) Stack
  - (۳) Heap
  - (۴) Code
- ۹۳- سیستم عامل می‌تواند بر کوبیدگی (Thrashing) غلبه نماید اگر .....؟
- (۱) اندازه صفحه افزایش یابد.
  - (۲) سرعت ورودی و خروجی افزایش یابد.
  - (۳) درجه چند برنامه‌ریزی را افزایش دهد.
  - (۴) تخصیص حافظه به پردازنده‌ها با توجه به اندازه پنجره‌کاری آنها تنظیم گردد.

۹۴- در مدار زیر برای انجام عمل  $R_p \rightarrow R_1 + R_2$  چند کلاک لازم است. (L ها با لبه بالارونده پر می‌شوند و بارگذاری R ها نیز با لبه بالارونده است.)



۹۵- در ضرب دو عدد دو دویی  $m$  بیتی و  $m+2$  بیتی در شیوه مکمل ۲ با روش Booth:

(۱) حداقل یک عمل تفریق نیاز است.

(۲) حداقل یک عمل جمع نیاز است.

(۳) حداکثر  $1 + \frac{m}{2}$  عمل تفریق نیاز است.

(۴) حداکثر  $\frac{m}{2}$  عمل تفریق و  $\frac{m}{2}$  عمل جمع نیاز است.

۹۶- یک دستگاه I/O به صورت memory mapped به کامپیوتر متصل است و به روش Interrupted I/O عملیات I/O صورت می‌گیرد. گزینه صحیح کدام است؟

(۱) امکان انجام programmed I/O وجود دارد.

(۲) برنامه‌ساز بروز وقفه را با سرکشی مداوم روی خط وقفه واری می‌کند.

(۳) برنامه‌ساز امکان واری وضعیت دستگاه I/O و تبادل داده با دستگاه I/O را ندارد.

(۴) اصلاً امکان انجام Interrupted I/O وقتی اتصال دستگاه به صورت memory mapped است وجود ندارد.



۹۷- حاصل جمع دو عدد علامت‌دار A و B زیر، طبق چه شرطی منجر به سرریز (over flow) می‌شود؟

$$A = S_A A_{n-2} \dots A_1 A_0$$

$$B = S_B B_{n-2} \dots B_1 B_0$$

$$O = S_O O_{n-2} \dots O_1 O_0$$


$$S_0 = 1 \cdot \text{carry} = 0 \quad (۱)$$

$$S_0 = 0 \cdot \text{carry} = 1 \quad (۲)$$

$$\bar{S}_A \bar{S}_B S_0 + S_A S_B \bar{S}_0 = 1 \quad (۳)$$

$$\bar{S}_A \bar{S}_B S_0 + S_A S_B \bar{S}_0 = 0 \quad (۴)$$

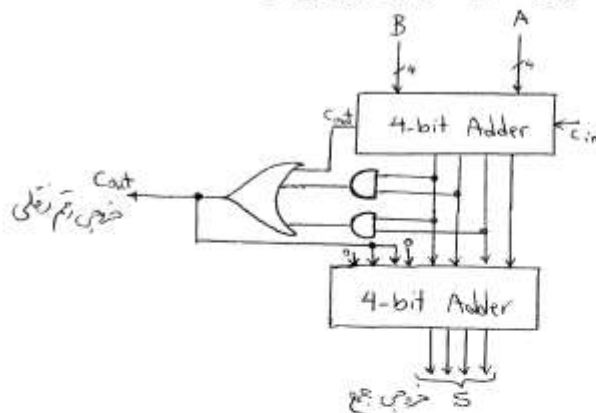
۹۸- یک حافظه نهان با نگاشت مجموعه انجمنی ۱۶ راهه و قالب آدرس ارسالی از CPU به شکل زیر موجود است. تعداد مجموعه‌ها و بلوک‌های موجود در حافظه نهان و نیز حجم حافظه نهان را به ترتیب از راست به چپ کدام است؟



(۱) ۲۵۶ . ۴۰۹۶ . ۲<sup>۱۶</sup> کلمه (۲) ۲۵۶ . ۲<sup>۱۶</sup> . ۲ کلمه

(۳) ۴۰۹۶ . ۴۰۹۶ . ۲<sup>۳۲</sup> کلمه (۴) ۴۰۹۶ . ۲<sup>۱۶</sup> . ۲ کلمه

۹۹- شکل زیر طرح یک جمع‌کننده BCD یک رقمی را نشان می‌دهد. اگر تأخیر هر FA (Full Adder) در محاسبه بیت‌های جمع و رقم نقلی را برابر  $d_{FA}$  و تأخیر هر گیت and یا Or را برابر  $d_{gate}$  در نظر بگیریم، بیشترین تأخیر، جمع‌کننده دهدهی ۲ رقمی که در آن از جمع‌کننده‌های Ripple carry (RCA) استفاده شده است، برابر کدام یک از موارد زیر می‌شود؟



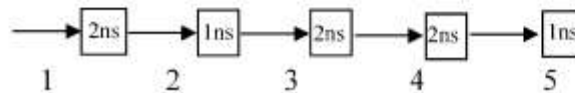
$$10d_{FA} + 2d_{gate} \quad (۲)$$

$$8d_{FA} + 2d_{gate} \quad (۱)$$

$$16d_{FA} + 4d_{gate} \quad (۴)$$

$$14d_{FA} + 4d_{gate} \quad (۳)$$

۱۰۰- فرض کنید یک مسیر داده (data path) در پردازنده غیر خط لوله (non-pipeline) داشته باشیم که زمان سیکل ساعت آن برابر ۸ میلی ثانیه باشد. ۳ دستورالعمل 11، 12 و 13 به ترتیب توسط این پردازنده اجرا خواهند شد. اکنون فرض کنید معمار کامپیوتر دریافته که می‌تواند این مسیر داده را به ۵ بخش مطابق شکل زیر تقسیم کند. (تأخیر هر بخش بر روی آن نوشته شده است).



اگر طراح بخواهد همین سه دستور را در نسخه جدید پردازنده که خط لوله‌ای شده است اجرا کند، چند درصد تسریع (speedup) به دست خواهد آورد؟ از هرگونه وابستگی بین دستورها چشم‌پوشی کرده و فرض کنید که دستورها از نوع پرش یا انشعاب نباشند.

- (۱) ۵۰۰  
(۲) ۴۰  
(۳) ۷۰  
(۴) ۱۰۰

۱۰۱- بخشی کوچک از یک برنامه ۷۰٪ زمان اجرای آن را به خود اختصاص می‌دهد و ۳۰٪ زمان توسط بقیه برنامه صرف می‌شود. حال اگر در بخش اول بتوانیم با استفاده از پردازنده‌ای سریع‌تر ۵۰٪ بهبود در زمان اجرا به دست آوریم، مشخص کنید کل برنامه چه تسریعی به دست می‌آورد (یعنی چند برابر سریعتر از حالت اول می‌شود)؟

- (۱) ۱٫۱۱  
(۲) ۱٫۳۰  
(۳) ۱٫۵  
(۴) ۱٫۷

۱۰۲- در سیستم نمایش اعداد ممیز شناور زیر فرض کنید بخش fraction نشان‌دهنده فقط بیت‌های بعد از ممیز است و مقدار آن بعلاوه‌ی ۱ می‌شود. مقدار exponent در فرمت 2's-complement می‌باشد. در این سیستم، مقدار بزرگترین و کوچک‌ترین عدد مثبت قابل نمایش به ترتیب چه هستند؟

1-bit (sign bit)	3-bit (exponent)	4-bit (fraction)
------------------	------------------	------------------

- (۱) ۰٫۰۶۲۵ و ۱۵٫۵  
(۲) ۰٫۱۲۵ و ۱۵٫۵  
(۳) ۰٫۰۶۲۵ و ۶۳  
(۴) ۰٫۱۲۵ و ۶۳

۱۰۳- عدد ۳۲ بیتی 00112233h را در نظر بگیرید. این عدد قرار است در حافظه اصلی در آدرس 10000000h تا 10000003h ذخیره شود. اگر معماری حافظه این پردازنده Big-Endian باشد، چه مقداری در آدرس 10000003h ذخیره می‌گردد؟

- (۱) 00h  
(۲) 11h  
(۳) 22h  
(۴) 33h

۱۰۴-

کدام گزینه در مورد واحد کنترل صحیح است؟

- ۱) استفاده از ریز برنامه‌سازی فقط در طراحی مدار کنترل ریزپردازنده‌ها کاربرد دارد.
- ۲) استفاده از مدار کنترل سیم‌بندی شده به طراح آزادی عمل بیشتری در ایجاد تغییرات احتمالی آتی می‌دهد.
- ۳) بکارگیری نانو حافظه بدلیل محدود بودن ترکیب فعالیت همزمان سیگنال‌های کنترل در یک سیستم می‌تواند باعث کاهش حجم ریز حافظه شود.
- ۴) اگر بتوان سیگنال‌های کنترل سیستم را طوری افراز کرد که در هر دسته فقط یک بیت در هر ریز دستور ریزبرنامه فعال باشد، می‌توان از تکنیک نانو حافظه برای کاهش حجم ریز حافظه استفاده کرد.

۱۰۵-

کدام گزینه در مورد سیستم حافظه صحیح است؟

- ۱) دلیل اصلی بالا بودن کارایی حافظه نهان در سلسله مراتب حافظه سرعت بالای نوشتن/خواندن در آن است.
- ۲) سیاست پشته‌ای (stack) در جایگزینی بلوک حافظه نهان دارای ناهنجاری (abnormally) است.
- ۳) اصل محلّیت دسترسی به داده‌ها به افزایش سرعت دسترسی در سلسله مراتب حافظه کمک می‌کند اما دسترسی به دستورات را کندتر می‌کند.
- ۴) حجم حافظه لازم در یک حافظه نهان با نگاهت مجموعه انجمنی برای نگهداری tagها از حجم حافظه لازم در یک حافظه نهان با نگاهت کاملاً انجمنی هم اندازه برای نگهداری tagها کمتر است.